

< 範圍：翰林版第一冊第一、二單元 >

【劃卡代號：52】

班級：

座號：

姓名：

※答案卡限用 2B 鉛筆劃記，答案請劃記明確；若有劃記錯誤，請擦拭乾淨。分數以電腦讀卡分數為準。

單一選擇題

(第 1-10 題為 4 分，第 11-30 題 3 分，合計 100 分)

1. 下圖為弘道國中某社團的教室座位圖，觀察座位圖後，請問下列哪項描述正確？



(A) 鳴人的座位位置在(C, 3) (B) 我愛羅坐在卡卡西的北方
(C) 雛田的座位位置在(4, B) (D) 李洛克坐在鳴人的東北方

2. 麗莎暑假時到蘭嶼旅遊，她在網路上預訂了一家民宿，並記錄了民宿相關資訊如下表。下列哪項資訊表示該民宿的「相對位置」？ (A)甲 (B)乙 (C)丙 (D)丁

甲、地址：台東縣蘭嶼鄉紅頭村紅頭 87 號
乙、此民宿位於蘭嶼航空站東方約 2 公里
丙、自行開車前來可利用 GPS 定位 (121.5°E · 22.0°N)
丁、在航空站索取的蘭嶼旅遊地圖上此民宿位在(B, 3)

3. 下表為地球經緯線的比較，下列哪些選項正確？

(A)甲乙丙 (B)甲乙丁 (C)乙丙丁 (D)甲丙丁

項目	經線	緯線
(甲)定義	連接地球南北極點的半圓弧線	赤道及與赤道平行的同心圓線
(乙)長度	每條線等長	赤道最長，愈往南北極愈短
(丙)方向	東西向	南北向
(丁)度數	東、西各180度	南、北各90度

4. 有兩架飛機在同一時間，分別從甲地(150°W, 30°S)和乙地(60°E, 30°S)，向正北方往赤道方向飛行。假設兩者飛行速度及高度相同，則在移動到赤道的過程中，兩架飛機之間的距離呈現何種變化？ (A)始終保持不變 (B)逐漸變長 (C)先變長再變短 (D)逐漸縮短

5. 馬利歐過年期間從桃園機場出發，前往舊金山(120°W)參加世界地理學大會，歷經數個小時的飛行後，終於在美國時間 1 月 23 日早上 4 點抵達舊金山。下飛機後，他又花了 3 個小時才住進事先預定的旅館，並立刻打電話給臺北的家人報平安，此時他的家人最可能正在做什麼？

(A)吃早餐 (B)喝下午茶 (C)準備關燈睡覺 (D)看八點檔戲劇

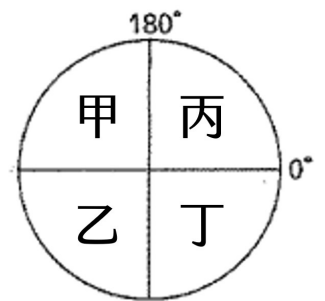
6. 小瓊元旦連假打算跟同學一起跨年，迎接 2024 年的第一道曙光，應選擇前往何地才能如願以償？

(A)臺中市 (B)金門縣 (C)高雄市 (D)臺東縣

7. 地理老師請同學於 A4 學習單中，自行決定縮放比例，繪製一張弘道國中校園平面圖，哪位同學畫出來的校園面積縮小最多？

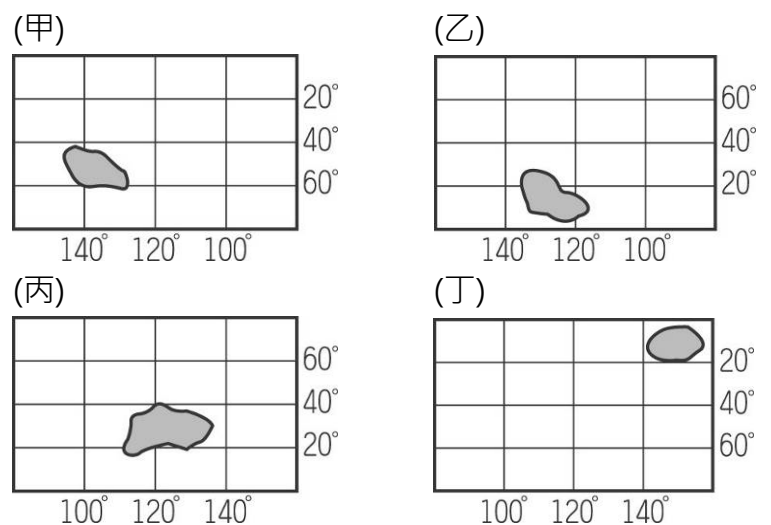
(A)菲菲 1 : 1000 (B)堂堂 1 : 5000
(C)夏冰 1 : 10000 (D)墨染 1 : 500000

8. 「2023 年於杭州(120°E, 30°N)舉行的亞洲運動會，中華隊屢傳捷報，10 月 2 日滑輪溜冰男子代表隊在 3000 公尺接力決賽，以 0.01 秒逆轉大勝韓國隊。」根據上述內容，亞運舉行地點大致位於右圖中何處？



(A)甲 (B)乙 (C)丙 (D)丁

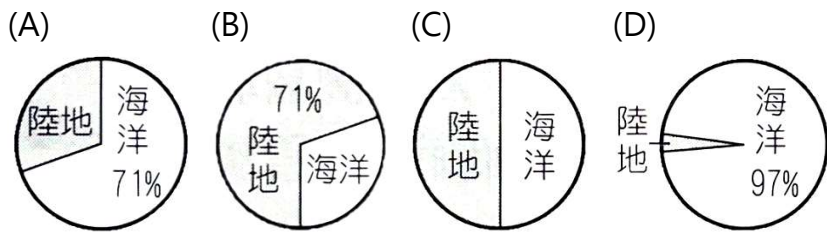
9. 關於甲乙丙丁四個島嶼的敘述，下列何者最為正確？



(A)甲島位於西半球、北半球 (B)乙島位於西半球、北半球
(C)丙島位於東半球、南半球 (D)丁島位於西半球、南半球

【背面尚有試題，請翻面作答】

10. 全球海陸分布不均，有關地表海洋與陸地占世界面積的比例，何者正確？

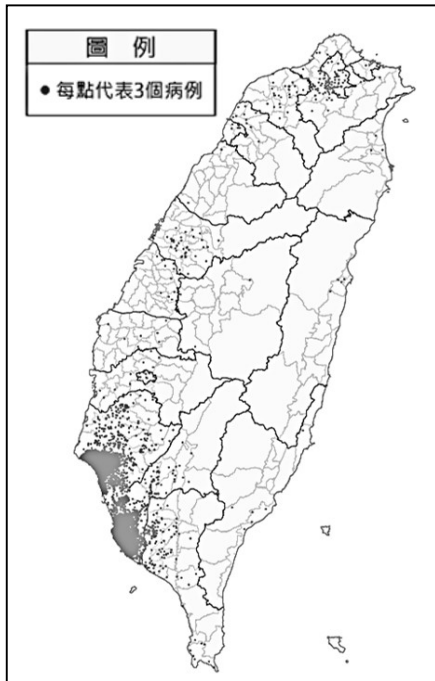


11. 下表是有關於大、小比例尺的比較，表中描述何者**錯誤**？

	大比例尺	小比例尺
(甲)例子	1 : 1000	1 : 100000
(乙)涵蓋範圍	較大	較小
(丙)內容	較詳細	較簡略
(丁)縮小程度	較少	較多

(A)甲 (B)乙 (C)丙 (D)丁

12. 近日，臺灣本土登革熱疫情處於高峰，統計至 10 月 2 日累計超過 1.3 萬例。右圖為臺灣登革熱病例分布圖，圖中每個●代表 3 個病例。依圖中資訊判斷，九年級畢業旅行若想避開登革熱疫情較嚴重的區域，不建議前往哪一行政區？



(A)南投縣 (B)花蓮縣
(C)臺南市 (D)苗栗縣。

13. 隨著科技進步，地圖呈現方式多元，除了傳統紙本地圖，還有數位化的電子地圖。有關電子地圖的敘述，何者**錯誤**？

(A)可隨意放大縮小 (B)更新速度快
(C)可察看實際街景 (D)無法定位導航。

14. 「臺灣與菲律賓、越南、馬來西亞對於太平島的主權問題，始終爭議不斷，最大原因在於此島嶼周圍的漁業、石油、天然氣等天然資源。」上文所述島嶼，歸屬於哪一行政區管轄？

(A)屏東縣 (B)臺東縣 (C)新北市 (D)高雄市。

15. 澳洲旅遊局和臺灣旅行社合作的觀光推廣文宣提及，「不少人嚮往到北方雪國歡度白色聖誕，今年可以前往澳洲，享受暖洋洋的夏日聖誕假期。體驗南半球與眾不同的聖誕節，這裡夏日炎炎，悠閒自在，可以享受與自然為伍的樂趣。」上文所述兩地聖誕景色不同，與下列哪項因素最相關？

(A)南北半球季節相反 (B)各地傳統習俗差異
(C)東西半球日夜顛倒 (D)澳洲民族特質熱情

16. 「亞洲航空市場蓬勃發展，臺灣因地理位置優良，平均約 2.55 小時就能飛亞太地區各重要都市，使得不少航空公司會選擇先飛到臺灣，再轉進東南亞、東北亞，讓通過臺灣領空的飛機數增加。」前文所述現象，與哪項原因有關？

(A)四面環海，氣候溫暖 (B)位處熱帶與溫帶氣候過渡帶
(C)位居亞洲大陸的東側 (D)位東北亞與東南亞航線樞紐

17. 下圖為民國 91 年 7 月 1 日發行的 2000 元臺灣鈔票，上面的動物反映出臺灣特有的生態特色。下列哪項敘述是形成此生態特色的主要原因？



(A)位於大西洋東側 (B)位於東亞島弧上
(C)臺灣為孤立島嶼 (D)東經 120 度經過

18. 「臺灣冬季時，常會有候鳥來臺避寒，譬如在秋冬時節，可在臺南七股一帶發現黑面琵鷺的蹤影，隔年春天，再飛回北方繁殖後代。」造成上文所述現象的原因為何？

(A)臺灣冬季的降水量較豐沛
(B)臺灣空氣清新且汙染較少
(C)臺灣居溫帶與熱帶氣候過渡的位置
(D)臺灣冬季氣溫較其他同緯度地區低

※下圖為臺北市立動物園園區地圖，根據圖中資訊，回答第 19-20 題：



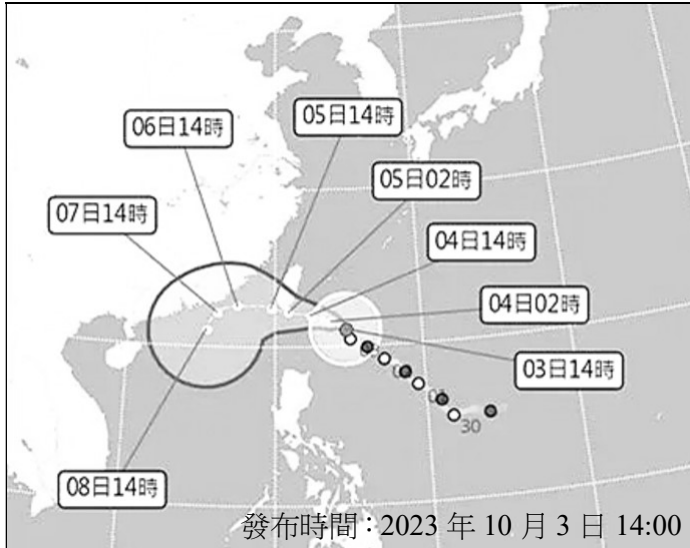
19. 此張地圖中**缺少**哪項地圖要素？

(A)圖名 (B)圖例 (C)方向標 (D)比例尺

20. 承上題，因缺少某項要素，所以**無法**使用何項功能？

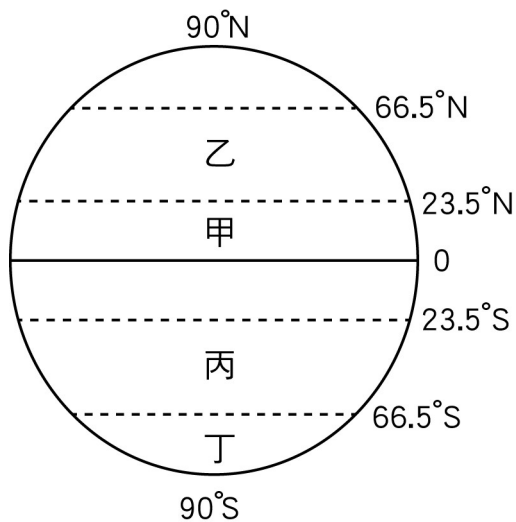
(A)了解地圖的主要內容 (B)判斷行走路線的方向
(C)找出昆蟲館所在位置 (D)計算移動的實際距離

※下圖為中央氣象署 10 月 3 日下午 2 點公布的「小犬」颱風路徑預測圖，請根據圖中資訊，回答第 21-22 題：



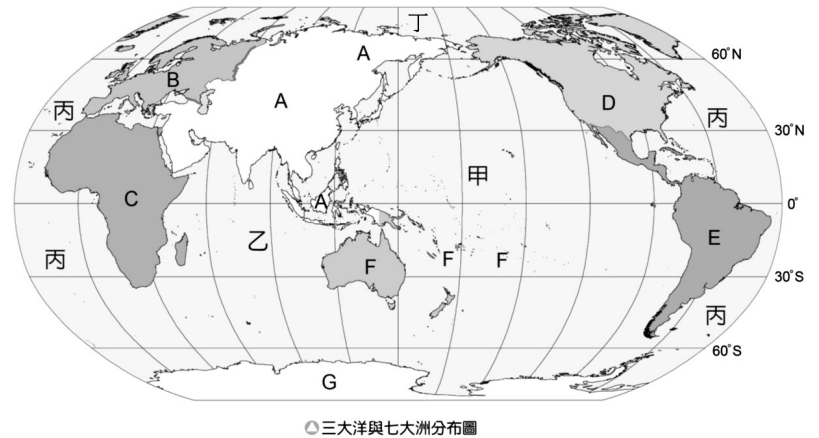
21. 此颱風在 3 日 14 時位於臺灣的哪個方位？
 (A) 東北方 (B) 西北方 (C) 東南方 (D) 西南方
22. 此颱風在 5 日 14 時的經緯度座標最接近下列何者？
 (A) (120°E, 22°N) (B) (121°E, 26°N)
 (C) (122°E, 21°N) (D) (123°E, 24°N)

※下圖為地球的氣候帶和分界線圖，依圖中資訊，回答第 23-26 題：



23. 有關圖中氣候分區的敘述，何者正確？
 (A) 甲為寒帶氣候 (B) 乙為熱帶氣候
 (C) 丙為溫帶氣候 (D) 丁為溫帶氣候。
24. 臺灣位於圖中哪兩個氣候區之間？
 (A) 甲乙 (B) 甲丙 (C) 丙丁 (D) 甲丁。
25. 臺灣的邦交國馬紹爾群島，其經緯度為(168°E, 9°N)，請問該國位於圖中何處？ (A) 甲 (B) 乙 (C) 丙 (D) 丁。
26. 科學家針對南極企鵝的分布進行普察，發現近 40 年間企鵝數量大量減少，請問科學家研究的地點主要位於何處？
 (A) 甲 (B) 乙 (C) 丙 (D) 丁。

※地球表面有三大洋、七大洲。鹽度穩定、有獨立潮汐與洋流系統的遼闊水域稱為「大洋」；面積廣大的陸地及其附屬島嶼，稱為「洲」。下圖是三大洋與七大洲分布圖，根據圖中資訊，回答第 27-30 題：



27. 世界最大洋位在圖中何處？ (A) 甲 (B) 乙 (C) 丙 (D) 丁。
28. 有關丙海洋的敘述，何者錯誤？
 (A) 有本初經線穿越 (B) 位於歐洲與美洲之間
 (C) 大多位於西半球 (D) 最早看到日出的海域
29. 全球暖化後，被歐洲、亞洲、北美洲圍繞的高緯區水上航道日趨重要，此水域應位於圖中何處？
 (A) 甲 (B) 乙 (C) 丙 (D) 丁
30. 非洲北側的撒哈拉沙漠是世界上面積最大的沙漠，位於圖中何處？
 (A) A (B) B (C) C (D) D

【試題結束，請仔細檢查】